


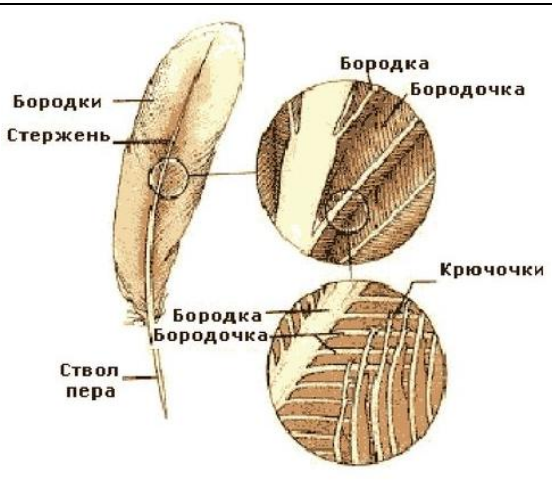

СТУДЕНЧЕСКАЯ ОЛИМПИАДА «СПЕКТР-24»
ЛИПЕЦКОГО ГОСУДАРСТВЕННОГО ПЕДАГОГИЧЕСКОГО УНИВЕРСИТЕТА
ИМЕНИ П.П. СЕМЕНОВА-ТЯН-ШАНСКОГО

ЗАДАНИЯ ОТБОРОЧНОГО ТУРА
по ТЕХНОЛОГИИ

Задание 1. В настоящее время активно развивается БИОНИКА – наука о применении в технике принципов строения и функций живых организмов.

Назовите в каждом приведенном примере: А) живой организм и его структуру (часть, орган), функции или форма которого применяется в техническом объекте; Б) техническое устройство или его деталь, которое было изобретено, благодаря данному живому организму.

Максимальный балл за задание – 2.

1. 	А) Б)
2. 	А) Б)
3. 	А) Б)

Задание 2. Напишите, урожай какой культуры показан на представленных рисунках.

Максимальный балл за задание – 2.

1.		
2.		
3.		

Задание 3. На рисунке изображена электрическая цепь, в которую входят три лампы, выключатель, амперметр, вольтметр, и источник питания. Нарисуйте принципиальную схему изображенной электрической цепи.

Максимальный балл за задание – 1.

